

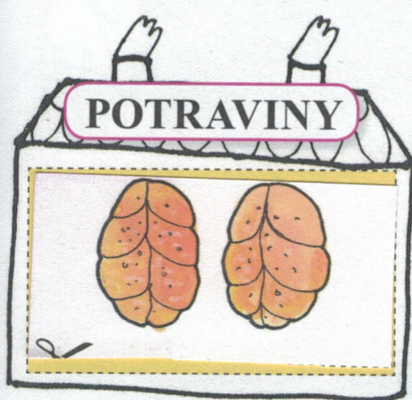


V OBCHODĚ

Dnes jdeme s maminkou nakupovat. Od minulé zimy jsem hodně vyrostl a bunda je mi malá. Musíme se zastavit i pro jídlo k večeři. Neztratím se?

1 VYSTŘIJNI obrázky zboží a VLEP je správně do obchodů, kde se tyto věci prodávají.



2 POVÍDEJ: **a** Kdo tě v obchodě obslouží? **b** Které další obchody znáš? **c** Které věci se dají koupit v papírnictví?



3 ČJ ŘEKNI, který obchod začíná na písmeno O. Kolik je to slabik?

2 Obuv, Oděvy, 3, Psík 2

4 M V peněžence mám tyto mince: Kolik korun mám?




Mám 13 korun.

Můžu si koupit čokoládu za 10 Kč?

ANO

~~NE~~

Maminka k obědu smažila kapra. Jak se dostal z rybníka až k nám do kuchyně? Kapr vyrostl v rybníku. O ryby v rybníce se stará porybný. Rybář je vyloví a prodává. Kdo loví ryby bez povolení, je pytlák.



1 DOPLŇ do obrázku čísla živočichů a rostlin:

- | | |
|----------|----------|
| 1 ČÁP | 6 CEJN |
| 2 VÁŽKA | 7 SKOKAN |
| 3 KACHNA | 8 LEKNÍN |
| 4 KAPR | 9 VRBA |
| 5 ŠTIKA | 10 RÁKOS |

cejn, kapr, štika, sumec

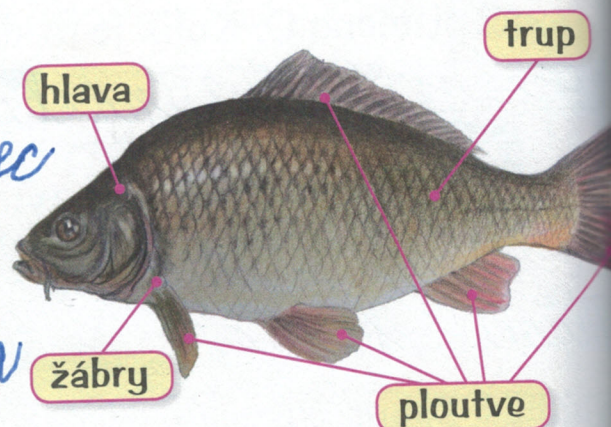
2 ŘEKNI:

- a Které ryby žijí v rybníce?
- b Čím se živí štika? *Rybkama*
- c Znáš nějaký další druh záby?

vrba, rosnice, rosmička


3 ZAPAMATUJ SI:

Ryby dýchají žábrymi.
Tělo je pokryto šupinami.
Pohybují se pomocí ploutví.
Žijí ve sladké i slané vodě.




1. Trénuj psaní čísel.

11 11 11 11 11 11




11 11 11 11 11 11 11 11 11 11 11 11
11 11 11 11 11 11 11 11 11 11 11 11

12 12 12 12 12 12




12 12 12 12 12 12 12 12 12 12 12 12 12 12
12 12 12 12 12 12 12 12 12 12 12 12 12 12

13 13 13 13 13 13




13 13 13 13 13 13 13 13 13 13 13 13 13 13
13 13 13 13 13 13 13 13 13 13 13 13 13 13

14 14 14 14 14 14



14 14 14 14 14 14 14 14 14 14 14 14 14 14
14 14 14 14 14 14 14 14 14 14 14 14 14 14


15 15 15 15 15 15



15 15 15 15 15 15 15 15 15 15 15 15 15 15
15 15 15 15 15 15 15 15 15 15 15 15 15 15

1. Trénuj psaní čísel.


16 16 16 16 16 16 16



16 16 16 16 16 16 16 16 16 16 16 16 16 16 16 16

16 16 16 16 16 16 16 16 16 16 16 16 16 16 16 16


17 17 17 17 17 17 17



17 17 17 17 17 17 17 17 17 17 17 17 17 17 17

17 17 17 17 17 17 17 17 17 17 17 17 17 17 17


18 18 18 18 18 18 18



18 18 18 18 18 18 18 18 18 18 18 18 18

18 18 18 18 18 18 18 18 18 18 18 18 18 18


19 19 19 19 19 19 19



19 19 19 19 19 19 19 19 19 19 19 19 19 19

19 19 19 19 19 19 19 19 19 19 19 19 19 19

20 20 20 20 20 20



20 20 20 20 20 20 20 20 20 20 20 20 20 20

20 20 20 20 20 20 20 20 20 20 20 20 20 20



Sčítání a odečítání v oboru do 10

$5 + 5 = 10$

$3 + 5 = 8$

$1 + 9 = 10$

$4 + 6 = 10$

$10 - 3 = 7$

$8 - 7 = 1$

$2 + 7 = 9$

$10 - 5 = 5$

$2 + 6 = 8$

$10 - 0 = 10$

$3 + 4 = 7$

$10 - 7 = 3$

$4 + 5 = 9$

$10 - 4 = 6$

$6 - 3 = 3$

$10 - 8 = 2$

$2 + 5 = 7$

$9 - 4 = 5$

$1 + 9 = 10$

$7 + 2 = 9$

$10 - 6 = 4$

$5 + 5 = 10$

$7 - 3 = 4$

$1 + 3 = 4$

$10 - 6 = 4$

$4 + 2 = 6$

$7 + 3 = 10$

$9 - 3 = 6$

$10 - 1 = 9$

$2 + 5 = 7$

$8 + 1 = 9$

$9 - 4 = 5$

$5 + 1 = 6$

$10 - 1 = 9$

$3 + 7 = 10$

$7 - 4 = 3$

$4 + 6 = 10$

$9 - 3 = 6$

$3 + 3 = 6$

$2 + 8 = 10$

$3 + 5 = 8$

$10 - 7 = 3$

$3 + 7 = 10$

$8 - 1 = 7$

$10 - 0 = 10$

$7 - 5 = 2$

$10 - 3 = 7$

$8 - 0 = 8$

$8 - 2 = 6$

$10 - 4 = 6$

$5 + 1 = 6$

$3 + 7 = 10$

$8 - 1 = 7$

$2 + 2 = 4$

$7 - 5 = 2$

$10 - 9 = 1$

$3 + 2 = 5$

$5 - 1 = 4$

$5 + 3 = 8$

$3 + 7 = 10$



Doplň znaménka < > = :

$0 < 5$

$5 < 7$

$9 > 5$

$7 < 8$

$2 = 2$

$9 > 7$

$0 < 8$

$3 = 3$

$6 > 5$

$1 < 5$

$8 > 3$

$9 > 6$

$10 > 5$

$4 > 3$

$9 > 7$

$6 < 7$

$7 > 4$

$9 > 6$

Které číslo je < > = než uvedené číslo?

$6 < 8$

$9 > 6$

$2 < 5$

$7 > 6$

$0 = 0$

$7 > 4$

$5 > 1$

$0 < 5$

$3 > 2$

$7 = 7$

$4 < 5$

$8 > 5$

$3 > 2$

$5 > 1$

$7 < 9$

$4 > 2$

$9 > 4$

$2 < 3$

Vypočítej a potom doplň znaménko < > = :

$7 - 2 = 5 = 5$

$5 + 4 = 9 > 2$

$4 - 1 = 3 = 3$

$8 - 3 = 5 > 4$

$5 + 0 = 5 < 8$

$3 + 1 = 4 < 6$

$3 + 4 = 7 > 3$

$7 + 2 = 9 > 5$

$6 - 2 = 4 = 4$

$8 + 2 = 10 > 1$

$0 + 3 = 3 < 9$

$8 - 2 = 6 > 5$

$6 + 3 = 9 > 4$

$10 - 4 = 6 < 8$

$9 - 3 = 6 > 4$

$7 - 2 = 5 > 1$

$2 + 8 = 10 = 10$

$3 + 5 = 8 < 9$

$9 - 3 = 6 > 4$

$8 - 5 = 3 < 7$

$7 - 1 = 6 = 6$



Nemáš-li tam chybičku, vybarvi si myšičku.

Helena Helena Hana

Hynek Hynek Hynek

A A A A A A A A A A

Z Z Z Z Z Z Z Z

V V V V V V V V V V

R R R R R R R R R R

Z Z Z Z Z Z Z

R R R R R R R

V V V V V V V V V V

V Učitelce jsem se učil:

V pondělí jsme psali L a

V úterý byla hra s kočkami.

Vě středu poznávali vajíčka

ptáčků. Vě čtvrtek jsme psali

B e.

S pondruvem Pavlik