







1. Porovnej čísla. Do kroužku doplň znak $>$, $<$, nebo $=$.



2. Zapiš jako příklad na sčítání a vyznač v obrázku desítku.




$$10 + 9 = 19$$



$$10 + 4 = 14$$



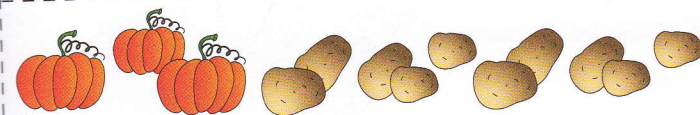
$$10 + 5 = 15$$



$$10 + 3 = 13$$



$$10 + 6 = 16$$



$$3 + 10 = 13$$

3. Vypočítej příklady.

$$10 + 6 = 16$$

$$10 + 8 = 18$$

$$2 + 10 = 12$$

$$7 + 10 = 17$$

$$10 + 4 = 14$$

$$10 + 3 = 13$$

$$5 + 10 = 15$$

$$0 + 10 = 10$$

$$7 + 10 = 17$$

$$10 + 6 = 16$$

$$10 + 9 = 19$$

$$10 + 7 = 17$$

$$1 + 10 = 11$$

$$3 + 10 = 13$$


$$10 + 5 = 15$$

$$10 + 1 = 11$$

$$9 + 10 = 19$$

$$10 + 10 = 20$$

4. Prohlédni si obrázek a doplň do vět správná čísla.



Na obrázku je kusů ovoce, které roste na zahrádce.

Na obrázku je kusů ovoce, které roste v cizích zemích.

Kolik je na obrázku celkem kusů ovoce?

Vypočítej: $10 + 6 = 16$

Odpověz: Na obrázku je celkem kusů ovoce.

