

1. Prohlédni si obrázek, znázorni a vypočítej slovní úlohu.

Na zahradě vykvetlo 16 kopretin. Evička 6 kopretin utrhla do vázy.

Kolik kopretin zůstalo na zahradě?



VYPOČÍTEJ: $16 - 6 = 10$

ODPOVĚZ: Na zahradě zůstalo10..... kopretin.

2. Znázorni a vypočítej podle vzoru.

	$20 - 10 = 10$
	$18 - 8 = 10$
	$14 - 4 = 10$
	$11 - 1 = 10$
	$12 - 2 = 10$
	$16 - 6 = 10$
	$19 - 9 = 10$
	$17 - 7 = 10$
	$13 - 3 = 10$
	$15 - 5 = 10$

3. Vypočítej příklady.

$5 + 5 = 10$ $7 - 2 = 5$ $4 + 1 = 5$ $9 - 4 = 5$

$8 + 2 = 10$ $8 - 5 = 3$ $5 + 2 = 7$ $8 - 2 = 6$

$7 + 3 = 10$ $6 - 3 = 3$ $7 + 1 = 8$ $7 - 1 = 6$

$1 + 8 = 9$ $9 - 5 = 4$ $9 + 1 = 10$ $4 - 2 = 2$

4. Porovnej čísla.

$17 > 12$ $18 < 19$ $20 > 19$

$16 > 13$ $10 < 20$ $17 > 16$


$11 < 15$ $10 < 11$ $15 < 18$

$12 = 12$ $14 < 15$ $10 < 12$



1. Spočítej, kolik cedulek dostal Eda na popis sazeniček.

Kolik cedulek Edovi zůstalo, když mu Petr 5 cedulek ztratil? Znázorni.



Eda dostal¹⁵..... cedulek.

Petr ztratil⁵..... cedulek.

Vypočítej:

$$15 - 5 = 10$$

Odpověz: Edovi zůstalo¹⁰..... cedulek.

2. Podle vzoru vytvoř 2 příklady na sčítání a 2 příklady na odčítání.

9 10 19
$9 + 10 = 19$
$10 + 9 = 19$
$19 - 9 = 10$
$19 - 10 = 9$

16 6 10
$10 + 6 = 16$
$6 + 10 = 16$
$16 - 6 = 10$
$16 - 10 = 6$

8 18 10
$10 + 8 = 18$
$8 + 10 = 18$
$18 - 8 = 10$
$18 - 10 = 8$

17 10 7
$10 + 7 = 17$
$7 + 10 = 17$
$17 - 7 = 10$
$17 - 10 = 7$

3. Dopln chybějící čísla.

$5 + 10 = 15$	$8 + 10 = 18$	$10 + 3 = 13$
$16 - 6 = 10$	$18 - 8 = 10$	$19 - 9 = 10$
$10 + 7 = 17$	$15 - 5 = 10$	$10 + 1 = 11$
$14 - 4 = 10$	$12 - 2 = 10$	$11 - 1 = 10$
$10 + 10 = 20$	$17 - 7 = 10$	$10 + 9 = 19$
$10 + 8 = 18$	$13 - 3 = 10$	$10 + 5 = 15$

4. Porovnej výsledky příkladů.

Dopln do kroužku znak $>$, $<$, nebo $=$.

$$10 + 5 = 15 > 15 - 10 = 5$$

$$18 - 8 = 10 = 13 - 3 = 10$$

$$19 - 10 = 9 < 14 - 4 = 10$$

$$12 - 2 = 10 = 19 - 9 = 10$$

$$4 + 10 = 14 > 10 + 2 = 12$$

$$16 - 6 = 10 < 3 + 10 = 13$$

$$18 - 8 = 10 > 10 - 10 = 0$$


$$6 + 10 = 16 < 10 + 10 = 20$$

$$14 - 4 = 10 = 15 - 5 = 10$$


5. Vypočítej slovní úlohu.

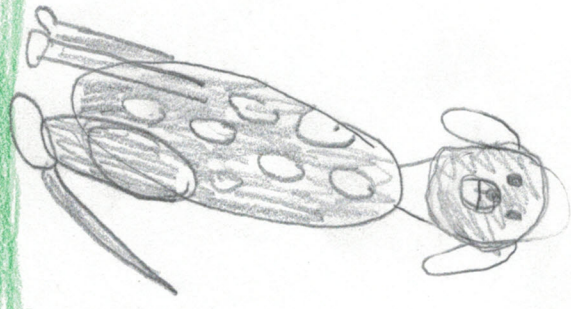
Zahradník musí každý den zalít 16 záhonů. Dnes již zalil 6 záhonů. **Kolik záhonů musí ještě zalít?**

Vypočítej: $16 - 6 = 10$

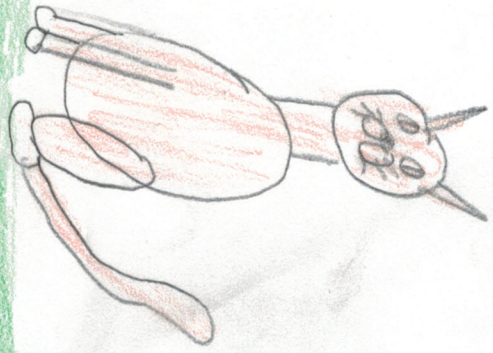


Odpověz: Zahradník musí ještě zalít¹⁰..... záhonů.





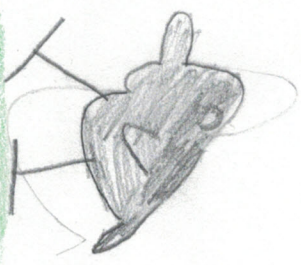
Be



Kotka




Juna



Spis



Kuulik



S s

S S S S S S S S S S
 s s s s s s s s s s
 š š š š š š š š š š

šip šip šip šip

šaly šaly šaly šaly

šarka šarka šarka šarka

S S s s s s s s s s

Masa Masa Masa

mas mas mas mas

mys mys mys mys

piw piw piw piw

škola škola škola škola

šidlo šidlo šidlo šidlo

šumava šumava šumava šumava

Šumí les. Šumí les.

Šála kouše. Šála kouše.