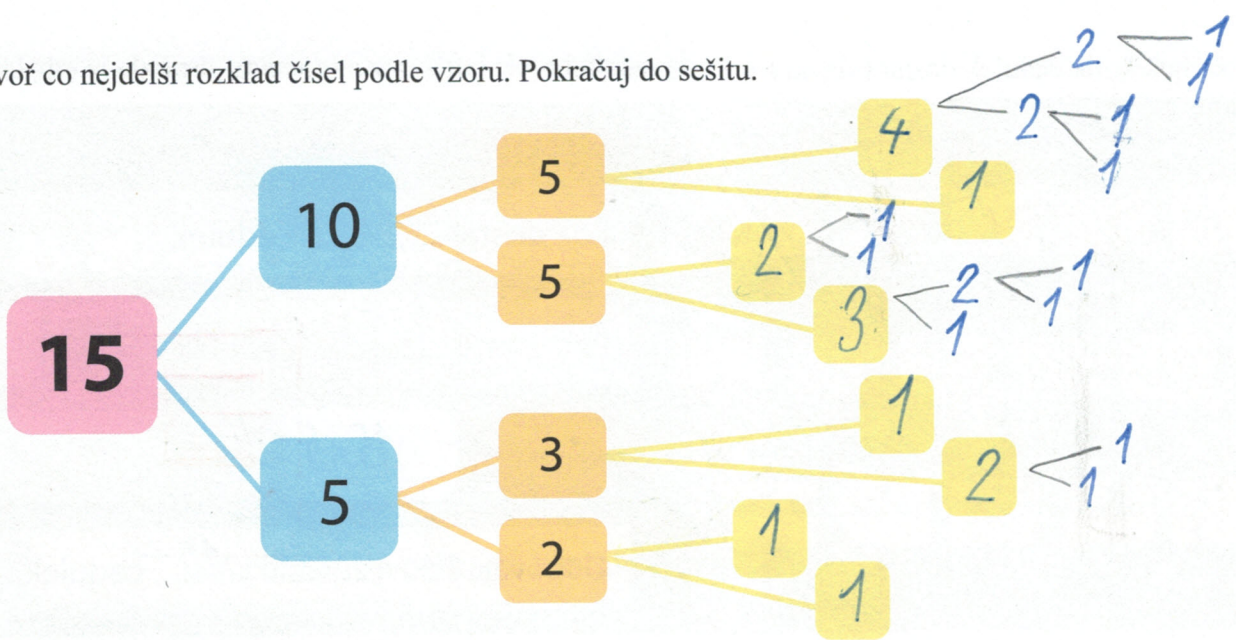
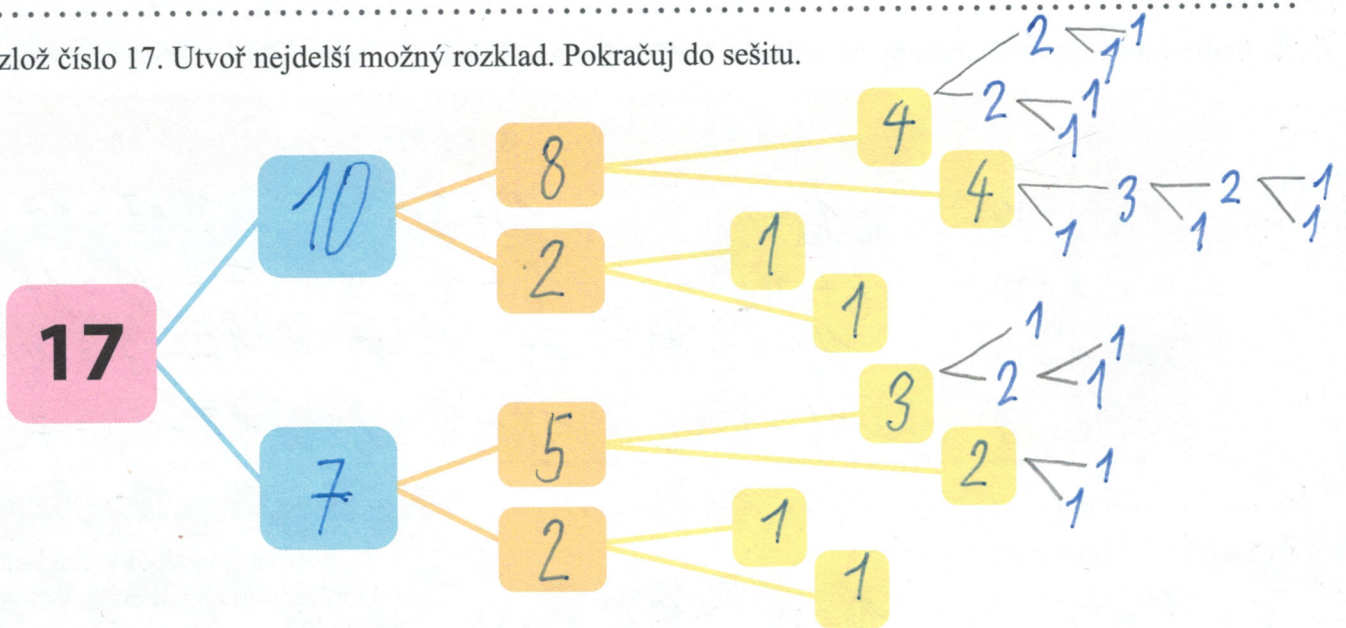


1. Utvoř co nejdelší rozklad čísel podle vzoru. Pokračuj do sešitu.



2. Rozlož číslo 17. Utvoř nejdelší možný rozklad. Pokračuj do sešitu.



3. Děti soutěžily, kdo dohodí míčem nejdál. Kůly ohrady jsou od sebe vzdálené 1 metr. Kůly nejprve očíslej a pak počátečním písmenem jména vyznač, kam každé dítě míč dohodilo. Vítěze nakresli do rámečku.

Jan hodil 9 metrů.

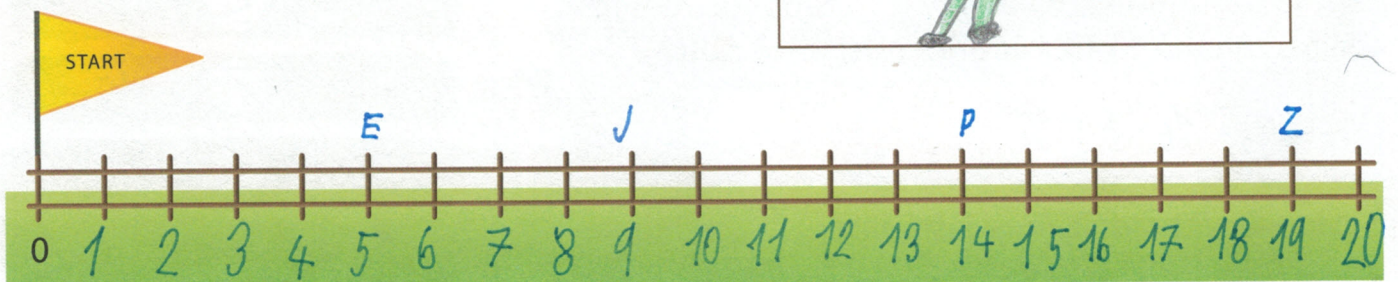
Pepa hodil 14 metrů.

Eva hodila 5 metrů.

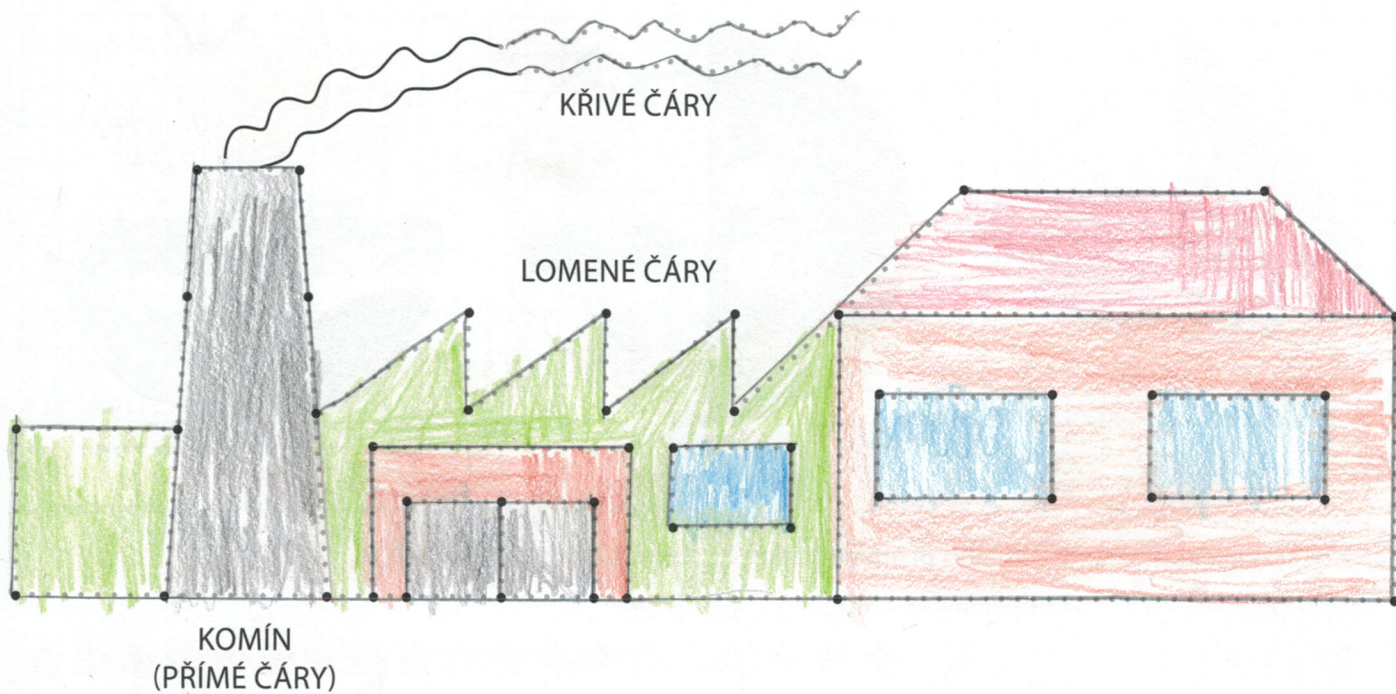
Zuzka hodila jako Eva a Pepa dohromady.

Kolik metrů hodila Zuzka? $5 + 14 = 19$


Kdo dohodil míč nejdál? ZUZKA




1. Čáry přímé, lomené a křivé – spoj tečky podle pokynů učitele (pracuj s pravítkem a tužkou). Obrázek vymaluj.




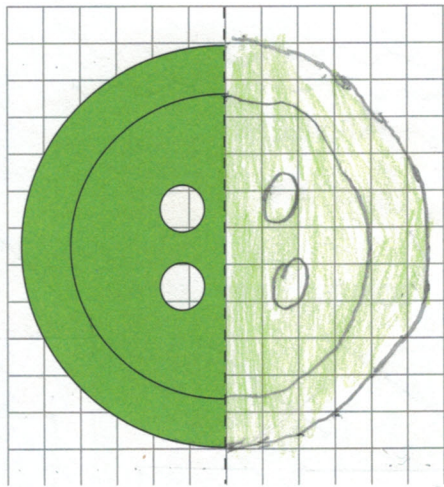
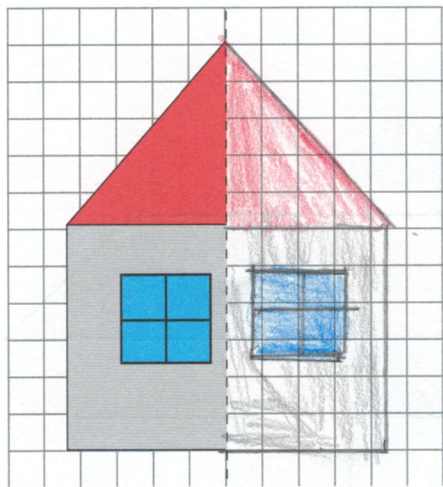
2. Narýsuj 4 přímé čáry podle pravítka.




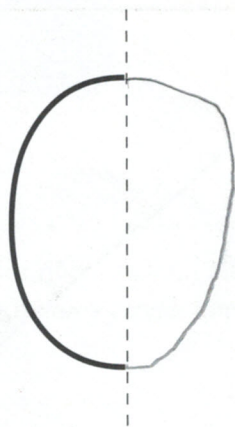
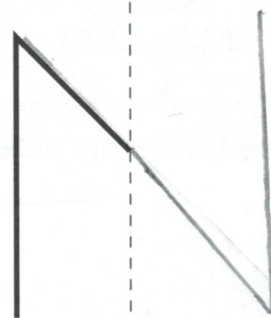
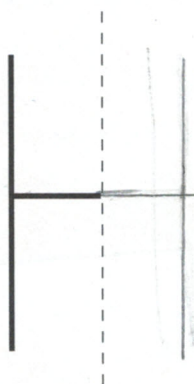
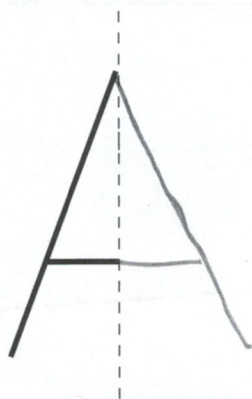
3. Narýsuj lomené čáry.



1. Domaluj obrázky. Pokus se, aby pravá strana byla úplně stejná jako levá.



2. Zlý král usekl mečem z každého písmene půlku. Zachraň písmena a dokresli je.



3. Vylušti slovo a napiš ho na řádek správně. Zrcátko ti pomůže. Do rámečku namaluj, co ti vyšlo.

KOPRETINA

KOBBETINA



pošta pošta pošta

Mikulas Mikulas

Misa sise sasy.

Misa sise sasy.

Nevís? Nevís? Nevís?

Saša piše. Saša piše. Saša

Ahoj! Ahoj! Ahoj! Ahoj!

Váša šeptá. Váša šeptá.

Jíme kaši. Jíme kaši.

Adam Veselý, so je

můj bráta. Játa, ten

mi napoví, kávovar

je kovový. pošta

Mikuláš Mikuláš

Miša sije šaty.

Nevis? Nevis? Nevis?

Játa píše. Játa píše.

Ahoj! Ahoj! Ahoj! Ahoj!

Máme doma málo

medu. Játa kolo Játa

kus líky Játa, kos na

nás juká! Tome, jedeme

domů. Na kola! Mamo

koji mimino. To pije!

Játa, koukej, Mouchek umí

kouvat. Víde, jak se loví

vak? Rakou. noha kusa