



$\frac{16}{2} = 18$	$\frac{17}{1} = 18$	$\frac{12}{3} = 15$	$\frac{15}{4} = 19$	$\frac{13}{6} = 19$	$\frac{18}{1} = 19$	$\frac{14}{4} = 18$	$\frac{10}{7} = 17$	$\frac{11}{9} = 20$
---------------------	---------------------	---------------------	---------------------	---------------------	---------------------	---------------------	---------------------	---------------------

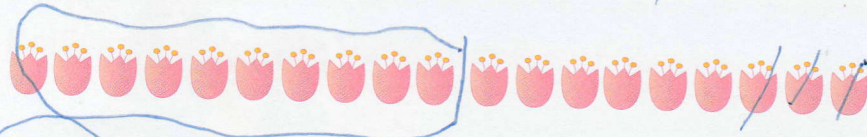
2. Spočítej tulipány a jejich počet zapiš do kroužku. Potom prvních deset tulipánů zakroužkuj, přeškrtni odpovídající počet tulipánů a příklad rozepiš podle vzoru.




$$17 - 5 = 10 + 7 - 5 = 12$$



$$18 - 4 = 10 + 6 - 4 = 12$$



$$19 - 3 = 10 + 9 - 3 = 16$$



$$20 - 6 = 10 + 8 - 6 = 12$$


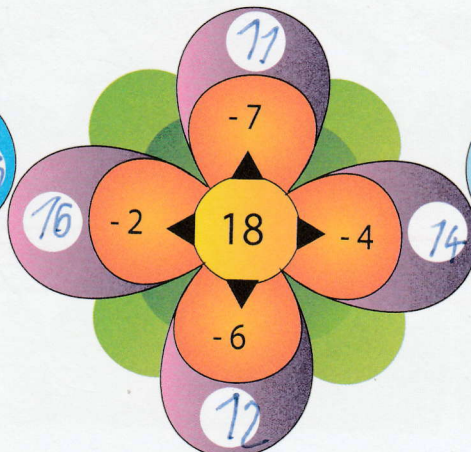



$$20 - 7 = 10 + 8 - 7 = 11$$

3. Vypočítej příklady.

$14 - 4 = 10$	$18 - 2 = 16$	$16 - 3 = 13$	$16 - 2 = 14$	$20 - 7 - 2 = 11$
$13 - 2 = 11$	$16 - 1 = 15$	$14 - 1 = 13$	$15 - 2 = 13$	$15 - 2 - 3 = 10$
$19 - 4 = 15$	$15 - 4 = 11$	$19 - 3 = 17$	$17 - 3 = 14$	$18 - 3 - 4 = 11$
$16 - 5 = 11$	$15 - 3 = 12$	$18 - 5 = 13$	$15 - 4 = 11$	$20 - 3 - 5 = 12$
$17 - 1 = 16$	$20 - 5 = 15$	$17 - 4 = 13$	$18 - 6 = 12$	$18 - 1 - 4 = 13$

4. Doplní čísla. Počítej od středu květu a výsledky zapiš do kroužku.



1. Představ si, že jsi na zahradě. Vymysli alespoň 1 slovní úlohu na odčítání s tématem zahrady. Řekni ji spolužákům, znázorni ji, vypočítej a řekni odpověď.

Například: Na zahradě poletovalo 15 berušek, 3 berušky odletěly.  
**Kolik berušek na zahradě zůstalo?**

Znázorni:

*10 11 12 13 14 15 16 17 18 19 20*

Vypočítej:

$$15 - 3 = 12$$

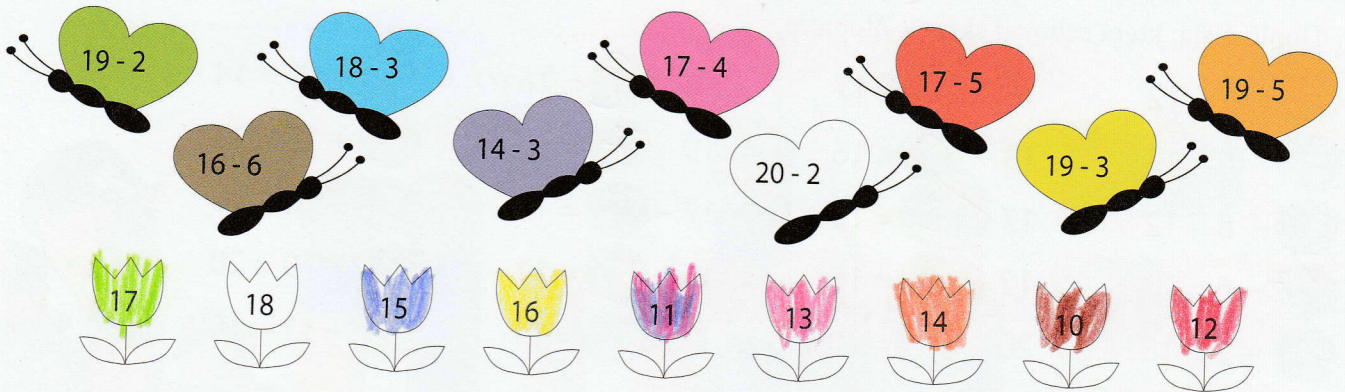
Odpověz:

*12*




A teď vymýšlej ty.

2. Květinu s výsledkem vybarvi stejnou barvou, kterou má motýl s příkladem.



3. Řádně si prohlédni obrázek a přečti zadání. Vypočítej slovní úlohu a nezapomeň na odpověď.

Včelky sbíraly na květech pyl. Po chvíli včelky Bzučilka, Pilnuška, Jaruška a Květuška odlétly do úlu.



**Kolik včel na květech zůstalo?**

Na květech původně sbíralo pyl .....*9*..... včel.

Vypočítej:

$$9 - 4 = 5$$

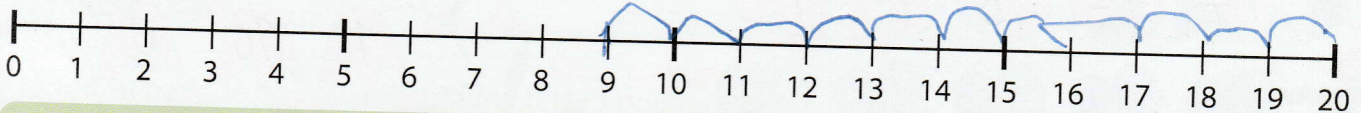
Odlétly .....*4*..... včely.

Odpověz: Na květech zůstalo .....*5*..... včel.

4. Vyznač (nakresli) skok žabky z čísla 20 na číslo 9 a zapiš příkladem.



**O kolik políček skočila žabka zpátky?**



Vypočítej:


$$20 - 9 = 11$$

Odpověz: Žabka skočila zpátky o .....*11*..... políček.



1. Vypočítej slovní úlohu.

Dva dřevorubci přišli pokácet stromy kolem louky.



Každý dřevorubec musí pokácet dva stromy. **Kolik stromů kolem louky zůstane?**

Kolem louky je .....20... stromů.

Vypočítej:  $20 - 4 = 16$

Dřevorubci pokáčí .....4... stromy.

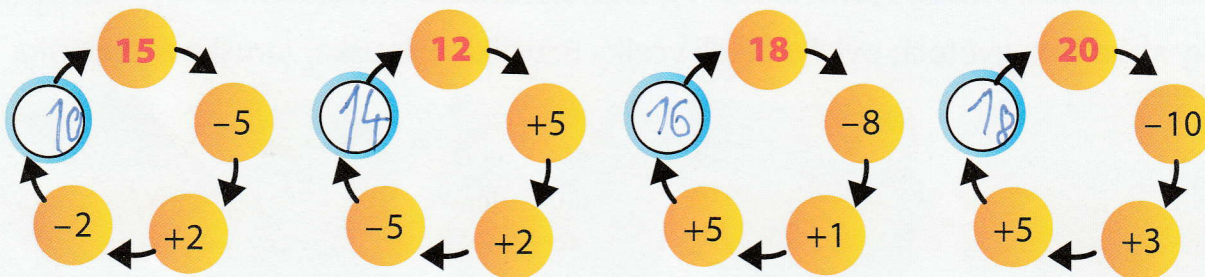
Odpověz: Kolem louky zůstane .....16... stromů.

2. Dopln čísla, která schoval skřítek Zlobidlo.


$\overset{79}{19} - 7 = 12$	$15 + \overset{2}{2} = 17$	$18 - \overset{2}{2} = 16$	$\overset{3}{3} + 11 = 14$
$\overset{19}{19} - 6 = 13$	$13 + \overset{3}{3} = 16$	$19 - \overset{7}{7} = 12$	$\overset{2}{2} + 18 = 20$
$\overset{20}{20} - 8 = 12$	$17 + \overset{2}{2} = 19$	$17 - \overset{4}{4} = 13$	$\overset{3}{3} + 16 = 19$
$\overset{17}{17} - 6 = 11$	$12 + \overset{4}{4} = 16$	$16 - \overset{5}{5} = 11$	$\overset{1}{1} + 19 = 20$
$\overset{19}{19} - 1 = 18$	$20 + \overset{0}{0} = 20$	$13 - \overset{2}{2} = 11$	$\overset{8}{8} + 11 = 19$



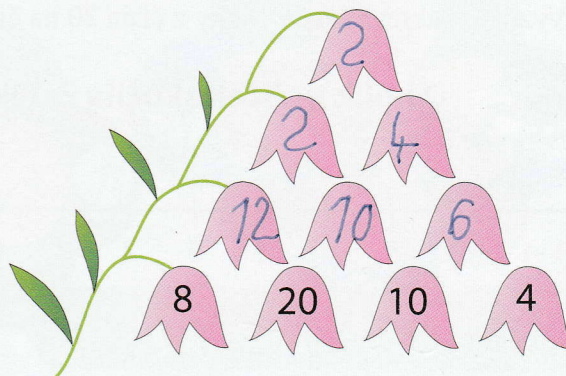
3. Dopln čísla.



4. Dopln motýlí křídla.



5. Vypočítej odčítací pyramidy zvonků. Počítej pro každou dvojici sousedních čísel. Od většího čísla odečti menší a výsledek zapiš do zvonku nad nimi. V odčítání pokračuj směrem nahoru až k vrcholu.



Na jaře má babička na zahradě hodně práce, tak jí pomáhám. Sejeme semínka, sázíme sazeničky zeleniny, okopáváme záhonky a vytrháváme plevel.

1

- a POVÍDEJ, co vidíš na obrázcích.  
b DOPIŠ k obrázkům, co s babičkou děláme.

Nápověda:

ZALÉVÁME, SEJEME,  
PLEJEME, SÁZÍME

PLEJEME



SÁZÍME



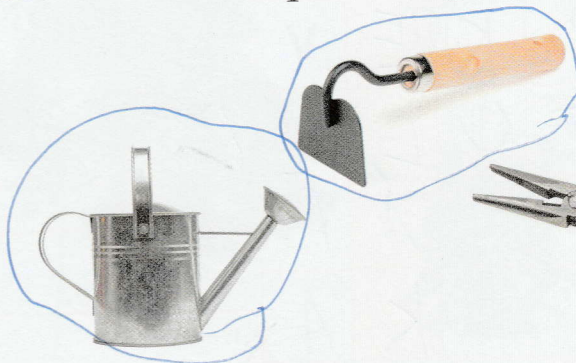
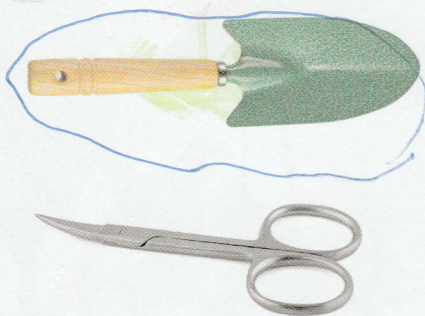
SEJEME



ZALÉVÁME

2

ZAKROUŽKUJ, které nářadí se používá při práci na zahradě.



HV Zaspívejte si písničku:  
„Šla Nanyňka do zelí...“.

ČJ Vyprávějte pohádku „O veliké řepě“.  
Můžete si ve třídě sehrát scénku.

# JÁ TO HRAVĚ ZVLÁDNU! 7

1 ROZHODNI, co je pravda. VYBARVI písmenko u správné odpovědi:

Ptáci na jaře snášejí vajíčka, zvířatům se rodí mláďata.

Na jaře přilétají vlaštovky a čápi.

Keř má kmen.

Na jaře lyžujeme a bruslíme.

Na kole můžu jezdit bez helmy.

Mezi jarní měsíce patří květen.

Včely vytváří med.

Hrášek je zelenina.

ANO	NE
B	V
U	Z
H	D
K	E
A	L
É	R
T	O
O	M



2 NAPIŠ, co ti vyšlo v tajence: BUDE LÉTO

3 POZNEJ rostlinu a PŘIŘAĎ k ní její název.



VIOLKA



PAMPELIŠKA



PRVOSENKA

SNĚŽENKA




TULIPÁN



NARCIS



Jak ti šlo opakování?  
VYBARVI svou květinu:



Jsou tady svátky jara. Kluci pletou



a babička



a holky malují



Maminka peče a babička . Všude se uklízí a všechno se zdobí.

## 1 ČJ PŘEČTI A NAUČ SE BÁSNIČKU:

### VELIKONOČNÍ PRO KLUKY

Upletl jsem pomlázku,  
je hezčí než z obrázku.  
Všechny holky, které znám,  
navštívím a vymrskám.

### VELIKONOČNÍ PRO HOLKY

Kropenatá slepička  
snesla bílá vajíčka.  
Obarvím je, vymaluji,  
všechny chlapce podaruji.

Z knihy *Velikonoční koledy* – Klára Trnková

## 2 M

**a** VYBARVI Otovi mašle na pomlázce: 2 modré, 3 červené, 1 zelenou a Evě vajíčka v ošatce: 1 žluté, 2 oranžová a 2 červená.

**b** VYPRÁVĚJ, jak slavíte Velikonoce u vás doma.



## 3 VYBARVI velikonoční vajíčka:



**ČJ** Jaké znáte velikonoční koledy? Každý přednese svoji oblíbenou.

**VV** Vyroberte si kraslici: Každý si přinese do školy vyfouknuté vejce a pomaluje ho temperovými barvami. Skrz kraslici provlékněte stuhu na zavěšení. *Kraslicemi z celé třídy můžete ozdobit strom v blízkosti školy.*

**PČ** Na kartonový papír děti nakreslí jarní motiv (květinu, ovečku, kuřátko, zajíčka), vybarví a přilepí na špejli. Ozdobu mohou zapíchnout do jarního osení v misce.

# PTÁCI

Někteří ptáci u nás přezimují, jiní odlétají na podzim do teplých krajů a na jaře se k nám opět vracejí. Proč odlétají? V zimě by tu trpěli hladem, protože se živí hmyzem, který v zimě nelétá.

1

- a PŘIPOJ správně názvy k částem těla ptáka na obrázku.
- b POZNÁŠ, jak se jmenuje?
- c Ve které pohádce nalámal čáp len?
- d JMENUJ další ptáky – stálé i stěhovavé.



HLAVA

KŘÍDLO

NOHY

ZOBÁK

TĚLO

ČAP

2



ZAPAMATUJ SI:

Většina ptáků umí létat. Tělo mají pokryté peřím. Mláďata ptáků se líhnou z vajec.


3

M

- a Vylušti pomocí šifry jméno dalšího ptáka:



- b ZAKROUŽKUJ jeho obrázek:



- c VÍŠ, že je to noční dravec? Podle čeho poznáš dravce?

4

ČJ

ZAKROUŽKUJ v každém slově první písmeno. Vyluštíš jméno ptáka?

KOČKA OKUSUJE SALÁM.

HUBENÁ URŠULA SNÍDÁ ANANAS.

KOŠ

HUSA